

TÜRKİYE SATRANÇ ŞAMPİYONASI

22 Kasım - 3 Aralık 2019

ANTALYA



Nilüfer Çınar ÇORLULU

Türkiye'nin ilk kadın uluslararası satranç ustası olan WIM Nilüfer Çınar Çorlulu dokuz kez Türkiye şampiyonu olmuştur. Karadeniz Teknik Üniversitesi matematik bölümü mezunu olan yazarımız Ezberbozan Spor Kulübü başkanı olup satranç çalışmalarına devam etmektedir.

2019 Türkiye Satranç Şampiyonu **GM Vahap ŞANAL!**

Antalya'nın Kemer ilçesinde, Gürış Holding'in desteğiyle 22.11.2019-03.12.2019 tarihleri arasında gerçekleştirilen 2019 Türkiye Satranç Şampiyonasında 10 maçta 9 puan alan GM Vahap ŞANAL şampiyonluğa ulaşırken, GM Mustafa YILMAZ 8 puanla ikinci, 6.5 puan alan IM Mert Yılmazyerli üçüncü olmuştur.


Şimdi GM Vahap Şanal'ın turnuvada 5.turda oynadığı bir maçıyla devam edelim:

GM Vahap Şanal – IM Deniz Özen

2019 Türkiye Satranç Şampiyonası Göynük - ANTALYA 27.11.2019

Merkez açılışı ile başlayan parti Petrof savunmasına dönüştü. Beyazların skorunun çok yüksek olduğu varyantta GM Şanal agresif stiliyle güzel bir maç kazandı.

1.e4 e5 2.d4 exd4 3.♘f3 ♘f6 4.e5 ♘e4 5.♙xd4 d5 6.exd6 ♘xd6 7.♗c3 ♗c6 8.♞f4
 ♙e7 9.♙d2 0-0 10.0-0 a6 11.♙d3 ♙e6 12.h4 ♞d7 13.g4 ♙xg4 14.♞hg1 f5 15.♗d5
 ♗e4 16.♗xe7+ ♞xe7 17.♞de1 ♙xf3 18.♙c3 ♙g4



Ters kanatlarda rok temasının damga vurduğu partide Beyazın filleri ve açık g dikeyi karşısında siyahların savunması çok zor.


19.♙xe4 fxe4 20.♞xg4 ♞f7 21.♞xe4 ♞f8 22.♞e6 ♞d8 23.♙xg7 ♞xg7 24.♞xg7+ ♗xg7
 25.♞g4+ ♗f8 26.♞h6+ ♗e8 27.♞g8+ ♗d7 28.♞g7 ♞xg7 29.♞xg7+ ♗e7 30.♞xh7 ♞f8
 31.♞d3+ ♗e8 32.♞e2 ♞f4 33.h5 1-0

Şimdi de GM Mustafa YILMAZ'ın turnuvada ki 9. turdaki oyunuyla devam edelim:

IM Ege Köksal– GM Mustafa Yılmaz

2019 Türkiye Satranç Şampiyonası Göynük - ANTALYA 01.12.2019


1.d4 ♘f6 2.c4 e6 3.♗f3 c5 4.e3 d5 5.cxd5 exd5 6.♗c3 ♗c6 7.♙e2 cxd4 8.♗xd4 ♙d6
 9.0-0 0-0 10.♗xc6 bxc6 11.b3 ♞c7 12.g3 ♙h3 13.♞e1




Siyahlarla çok keskin bir oyun sergileyen GM Yılmaz ders niteliğinde bir oyun sergiledi.

13...h5 14.♙f3 h4 15.♙g2 ♙xg2 16.♗xg2 ♙e5 17.♙b2 ♞fe8 18.♞c1 ♞ad8 19.♞f3 ♗e4
 20.♞c2 ♞c8 21.♗xe4 h3+ 22.♗g1 dxe4 23.♞h5 ♙xb2 24.♞xb2 ♞d5 25.♞h4 ♞ee5
 26.♞c2 ♞e6 27.f3 exf3 28.e4 f5 29.♞xh3 ♞xe4 30.♞f1 ♞e2 31.♞c3 ♞g2+ 32.♗h1 ♙dd2
 33.♞h4 ♞xh2+ 34.♞xh2 ♞xh2+ 35.♗xh2 ♞e2+ 36.♗h3 ♞xf1+ 0-1


Yazımızı mat sorularıyla bitirelim.



Beyaz ve siyahın bir hamlede matını bulalım.



Beyazın iki hamlede matını bulalım.



Beyaz ve siyahın üç hamlede matını bulalım.